

7 下の文章は、ある生徒がトルコ共和国と日本との関係についてまとめたものである。次の(1)～(5)に答えなさい。(12点)

トルコは黒海、エーゲ海、地中海に囲まれており、㉞古代ギリシャなど、さまざまな文明が栄えた場所に位置している。トルコが近代国家として誕生したのは、㉟第一次世界大戦後である。現在のトルコでは、国民の9割以上が(㊱)教を信仰しているが、その他の宗教が信仰されていた時代もあった。イスタンブールにあるアヤ・ソフィア大聖堂は宗教的融和を象徴する㊲世界遺産である。

トルコと日本の間には、約130年におよぶ友好の歴史がある。1889年、オスマン帝国(トルコ)はエルトゥールル号という軍艦で日本に使節を派遣した。ところが、エルトゥールル号は、翌年の帰国途中に暴風雨により、和歌山県大島村(現在の㊳串本町)の檜野崎付近で遭難し、沈没してしまった。この時、大島村の村人は献身的な救助活動を行い、乗組員約600人のうち、69人の命が助かった。現在でも、串本町はトルコのメルシン市、ヤカレント町と姉妹都市の関係をつぎ、交流を続けている。

社 会

(1) ㉞で地中海各地に建設された、アテネやスパルタのような都市国家を何というか、カタカナで書きなさい。

(2) 右の資料は、㉟の参戦国の一部を表している。㊱中のオスマン帝国(トルコ)と日本について述べた下の文中の□にあてはまる国名を、資料中から一つ選び、書きなさい。

資料

連合国側	同盟国側
イギリス	ドイツ
フランス	オーストリア
ロシア	オスマン帝国(トルコ)
セルビア	
イタリア	
アメリカ	
日本	

オスマン帝国(トルコ)は同盟国側として参戦したが、日本は□と同盟を結んでいることを理由に、連合国側として参戦した。

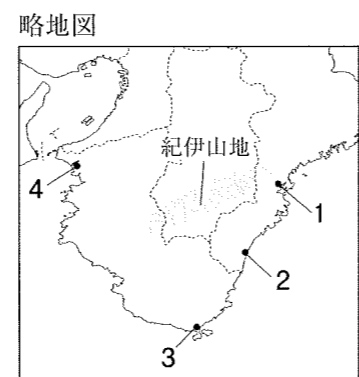
(3) (㊱)にあてはまる語を書きなさい。

(4) ㊲などの文化財の保護や、識字教育などの活動をしている、国際連合の専門機関の略称として適切なものを、次の1～4の中から一つ選び、その番号を書きなさい。

- 1 ユネップ
- 2 ユニセフ
- 3 UNCTAD
- 4 UNESCO

(5) ㊳の場所を下の記事を参考にして、右の略地図中の1～4の中から一つ選び、その番号を書きなさい。

串本町は、紀伊山地を背に雄大な太平洋に面し、海岸線が東西に長く伸びている。町の南の先端には、潮岬があり、これは東京の八丈島とほぼ同緯度に位置する。



注 意

- 1 問題用紙は「始めなさい」という合図があるまで開いてはいけません。
- 2 問題用紙は表紙を入れて8ページあり、これとは別に解答用紙が1枚あります。
- 3 受検番号は、検査開始後、解答用紙の決められた欄に記入しなさい。
- 4 机の上に置けるものは、受検票・鉛筆(シャープペンシルも可)・消しゴム・鉛筆削りです。
- 5 筆記用具の貸し借りはいけません。
- 6 問題を読むとき、声を出してはいけません。
- 7 印刷がはっきりしなくて読めないときや、筆記用具を落としたときなどは、だまって手をあげなさい。
- 8 「やめなさい」という合図ですぐに書くのをやめ、筆記用具を置きなさい。

答えの書き方

- 1 答えは、問題の指示に従って、すべて解答用紙に記入しなさい。
- 2 答えはていねいに書きなさい。答えを書き直すときは、きれいに消してから書きなさい。

1 下の略地図や資料を見て、次の(1)、(2)に答えなさい。(14点)

(1) 略地図1を見て、次のア～ウに答えなさい。

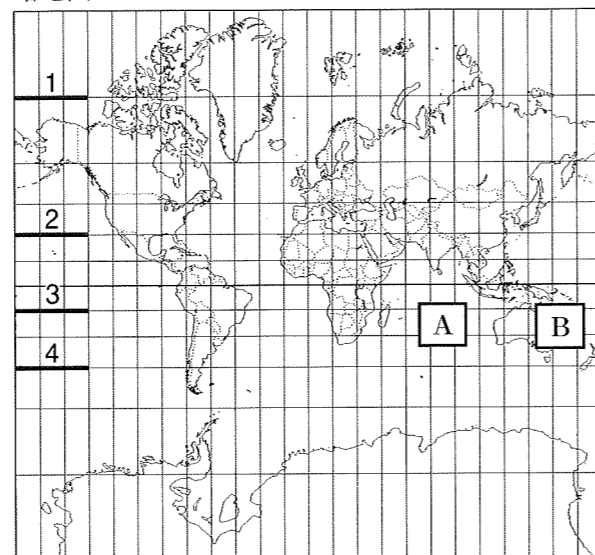
ア 世界の三大洋の一つである略地図1中のAの海洋名を書きなさい。

イ 略地図1は、緯線と経線が直角に交わった地図を表している。緯線と平行に同じ長さで描かれている略地図1中の1～4のうち、実際の距離が最も短いもの一つを選び、その番号を書きなさい。

ウ Bのオセアニア州について述べた文として適切でないものを、次の1～4の中から一つ選び、その番号を書きなさい。

- 面積の小さい島々の多くは、現在でもアメリカ領、フランス領などである。
- 貿易などで、アジア諸国との結び付きを強めている。
- 日本と季節が逆であることから、日本を訪れる観光客が増えている。
- 18世紀後半から世界に先がけて鉄鋼業や機械工業が発達した。

略地図1



(2) 略地図2を見て、次のア～ウに答えなさい。

ア 略地図2中の●の国々は、石油の価格の安定を確保することなどを目的としている組織に加盟することを通して、結び付いている。この組織を何というか、書きなさい。

イ アフリカ北部や西アジアの一部の地域では、水や草を求めて季節的に移動し、牛やラクダなどを飼育する**ほくちく**が行われている。このような牧畜を何というか、書きなさい。

ウ 右の資料は、略地図2中のモザンビーク、ガーナ、マリの公用語を表している。この3か国のように、アフリカ州の多くの国々で、独自の言語を持ちながらポルトガル語、英語、フランス語などが公用語として使われている理由を、書きなさい。

略地図2



資料

国名	公用語
モザンビーク	ポルトガル語
ガーナ	英語
マリ	フランス語

〔「2019 データブック オブ・ザ・ワールド」による〕

6 下の文章は、ある生徒が「経済の仕組み」についてまとめたものの一部である。次の(1)～(4)に答えなさい。(14点)

- ・私たちの経済は、生産と⑥消費を中心に成り立っている。
- ・商品には①価格がつけられ、価格は需要量と供給量との関係で変化する。
- ・独占や寡占を防ぐために、③独占禁止法が制定された。
- ・②少子高齢化が経済にも影響をあたえている。

(1) ⑥について、家族や個人など、消費生活を営む単位を何というか、書きなさい。

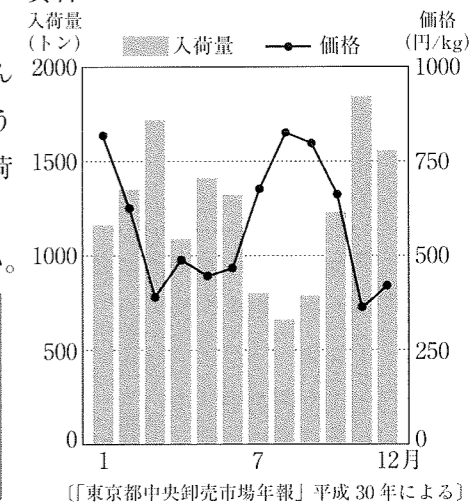
(2) ①について、次のア、イに答えなさい。

ア 右の資料は、東京都中央卸売市場における、ほうれんそうの入荷量と価格の動きを表している。ほうれんそうの入荷量と価格の関係について、「ほうれんそうの入荷量が」に続けて書きなさい。

イ 下の文章中の□にあてはまる語を書きなさい。

電気、ガス、水道などの価格は、大きく変動すると、国民生活に大きな影響をあたえかねない。そこで、これらの価格(料金)は□と定められ、国や地方公共団体が決定したり認可したりしている。

資料



(3) ③について述べた文として適切なものを、次の1～4の中から一つ選び、その番号を書きなさい。

- 企業などに市場での公正かつ自由な競争をうながし、消費者の利益を確保するために制定された。
- 消費者の権利や自立の支援などの基本理念と、国や地方公共団体の責務などが規定されている。
- 欠陥商品で消費者が被害を受けたときの企業の責任について定めている。
- 労働時間、休日、賃金など労働条件についての最低基準を定めている。

(4) ②について、次のア、イに答えなさい。

ア 少子高齢化の進展に対応して導入された、40歳以上の人が加入し、介護が必要になったときに介護サービスを受けられる制度を何というか、書きなさい。

イ 少子高齢化の進展と社会保障との関連について述べた文として適切でないものを、次の1～4の中から一つ選び、その番号を書きなさい。

- 公的年金や医療など高齢者の生活を支える社会保障にかかる費用が増加した。
- 高齢者を支える現役世代の数が減少するため、国民一人あたりの経済的な負担が軽くなった。
- 子育て及び家族の介護と仕事を両立できる雇用環境を整えるために、育児・介護休業法が定められた。
- 75歳以上の高齢者が加入する、後期高齢者医療制度が導入された。

5 下の文章を読んで、次の(1)～(5)に答えなさい。(14点)

私たちが自由に人間らしく生きていくことができるように、自由権、㉔社会権、㉕平等権、㉖参政権、㉗裁判を受ける権利などの基本的人権が保障されている。人権の保障は、一人一人の個性を尊重し、かけがえのない人間としてあつかうという「個人の尊重」の原理(憲法第13条)に基づいている。

しかし、産業や科学技術の発展などともなって、日本国憲法に直接的には規定されていない権利が主張されるようになり、このような権利は「新しい人権」と呼ばれる。「新しい人権」には、㉘環境権や知る権利、プライバシーの権利などがある。

(1) 1919年に定められた、㉔を最初に取り入れたドイツの憲法を何というか、書きなさい。

(2) ㉕について、資料1は日本における男女平等の実現に向けて、1999年に制定された法律の一部である。資料1中の(X)に共通してあてはまる語を書きなさい。

資料1

〈男女共同(X)社会基本法〉
第3条〔男女の人権の尊重〕
男女共同(X)社会の形成は、男女の個人としての尊厳が重んぜられること、男女が性別による差別的取扱いを受けないこと、男女が個人として能力を発揮する機会が確保されることその他の男女の人権が尊重されることを旨として、行われなければならない。

(3) ㉖について、次のア、イに答えなさい。

ア 国や地方の機関に要望する権利を何というか、書きなさい。

イ 資料2のA市の場合、市長の解職を請求する住民投票を行うためには、最低何人の有効な署名が必要か。次の1～4の中から一つ選び、その番号を書きなさい。

- 1 6万人 2 10万人 3 12万人 4 18万人

資料2

A市の人口	36万人
A市の有権者数	30万人

(4) ㉗について述べた文として適切でないものを、次の1～4の中から一つ選び、その番号を書きなさい。

- 司法制度改革の一環として、国民が刑事裁判に参加する裁判員制度が始まった。
- 裁判において、裁判官は自らの良心に従い、憲法と法律だけに拘束される。
- 地方裁判所での第一審の判決に納得できない場合、高等裁判所に上訴することができる。
- 国会や内閣は裁判所の活動に干渉してはいけない。

(5) 資料3は、㉘に配慮されたマンションを表している。

このマンションについて述べた下の文中の [] に入る適切な内容を書きなさい。

環境権に配慮し、中央のマンションは、左のマンションへの [] ために、側面を階段状にしている。



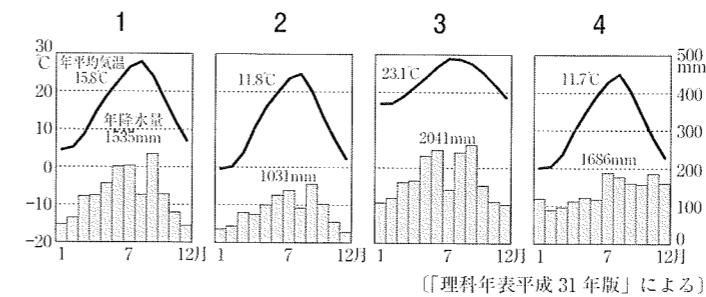
2 下の略地図や資料を見て、次の(1)～(6)に答えなさい。(15点)

(1) 略地図中のXについて述べた下の文中の [] にあてはまる語を書きなさい。

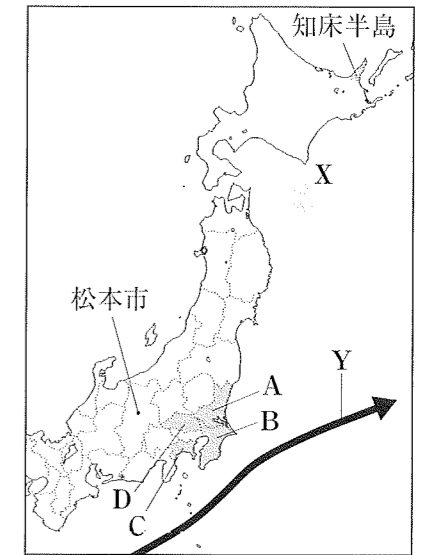
夏に吹く冷たくしめった北東の風で [] と呼ばれ、冷害をもたらすことがある。

(2) 略地図中のYは、赤道付近から北上してくる海流を表している。この海流名を書きなさい。


(3) 略地図中の松本市の雨温図として適切なものを、次の1～4の中から一つ選び、その番号を書きなさい。



略地図



資料1



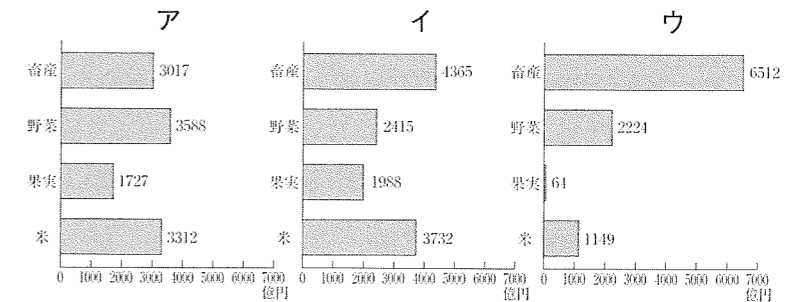
(4) 資料1は、略地図中の知床半島の高架木道を表している。これは、自然環境を維持しながら雄大な自然を体験するために設置された。このように自然環境や歴史、文化などを観光資源とし、その観光資源を損なうことなく、体験したり学んだりする観光の在り方を何というか、カタカナ7字で書きなさい。

(5) 資料2は、略地図中のA～Dの各県に計画的につくられた都市や地区を表している。これらの都市や地区がつくられた目的を、「都市問題の解決に向けて、」に続けて、次の2語を用いて書きなさい。

集中 分散

(6) 資料3のア～ウは、北海道地方、東北地方、中部地方の各地方の畜産、野菜、果実、米の生産額を表している。各地方とア～ウの組み合わせとして適切なものを、次の1～4の中から一つ選び、その番号を書きなさい。

資料3
(2015年)



〔農林水産省 統計情報〕などによる

	北海道地方	東北地方	中部地方
1	ア	イ	ウ
2	イ	ウ	ア
3	ウ	イ	ア
4	ウ	ア	イ

3 下のX～Zは歴史上の人物を表している。X～Zがそれぞれ話している内容について、次の(1)～(4)に答えなさい。(16点)

X 私は794年に都を(㉞)京に移し、新しい都で支配の仕組みを立て直そうとしましたが、不自然に女性の数が増えるなど、戸籍にいつわりが多くなりました。そのため、複雑な手続きが必要な㉟班田収授法を行うことができなくなってきました。

Y 私は尾張の小さな戦国大名でしたが勢力を広げて、1573年には㉡室町幕府の将軍足利義昭を京都から追放しました。また、㉢自由な商工業の発展を図るため、城下町に商人を招き、座や各地の関所を廃止しました。

Z 私は老中になった後、幕府の財政を立て直すために、㉤商工業者が株仲間を作ることを奨励しました。また、長崎での貿易を奨励し、新しい輸出品の開発に力を入れました。この時代は、商工業が活発になり、自由な風潮で㉦学問や芸術も発展しました。

(1) 人物Xが話している内容を読んで、次のア、イに答えなさい。
 ア (㉞) にあてはまる語を書きなさい。
 イ ㉟ について述べた文として適切でないものを、次の1～4の中から一つ選び、その番号を書きなさい。

- 1 戸籍に登録された6歳以上のすべての人々に口分田があたえられた。
- 2 性別や良民、賤民の身分に応じて口分田の広さが決められていた。
- 3 口分田をあたえられた人が死ぬと、国に返すことになっていた。
- 4 人々は、口分田の面積に応じて調を負担した。

(2) 人物Yが話している内容を読んで、次のア、イに答えなさい。
 ア ㉡ に関連して、起きたできごとについて述べた下の文中の(A)にあてはまる語を書きなさい。

第8代将軍足利義政のときに将軍のあとつぎ問題をめぐって、有力な守護大名の細川氏と山名氏が対立すると、1467年には11年にわたる(A)が始まった。

イ 右の資料は、㉢ のために実施した政策の一部である。資料中の(B)にあてはまる語を、漢字2字で書きなさい。

資料
 安土城下の町中に対する定め
 一 この安土の町は(B)としたので、いろいろな座は廃止し、さまざまな税や労役は免除する。

(3) 人物Zが話している内容を読んで、次のア、イに答えなさい。
 ア ㉤ について、この目的を、次の2語を用いて書きなさい。

特権 営業税

イ ㉦ について、18世紀後半に本居宣長が大成させた学問を書きなさい。

(4) X, Y, Zの人物名として適切なものを、次の1～9の中からそれぞれ一つ選び、その番号を書きなさい。

- | | | |
|--------|--------|--------|
| 1 織田信長 | 2 桓武天皇 | 3 聖武天皇 |
| 4 推古天皇 | 5 田沼意次 | 6 徳川家康 |
| 7 豊臣秀吉 | 8 松平定信 | 9 水野忠邦 |

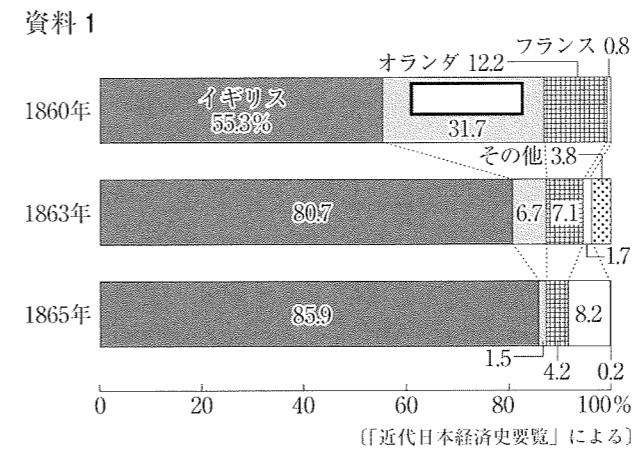
4 下のA～Cは、ある生徒が歴史の授業で興味をもったことについて、まとめたカードである。次の(1)～(6)に答えなさい。(15点)

A 開国の影響
 1858年に幕府は日米修好通商条約を結び、外国との自由な貿易を始めた。㉞開国後の最大の貿易港は横浜で、㉟貿易の相手国はイギリスが中心であった。外国との貿易は、日本の経済に大きな影響をあたえた。

B 明治維新の三大改革
 ㉡新政府は、欧米諸国にならった近代化のためのさまざまな改革を推し進めた。なかでも、学制、徴兵令、㉢地租改正の三つの改革は、近代政策の基礎となり、国民の生活に大きな影響をあたえた。

C ㉤大正デモクラシーの思想
 寺内正毅内閣が(㉦)によって退陣すると、原敬が本格的な政党内閣を組織した。政党政治が発展した大正時代、特に第一次世界大戦後は、民主主義(デモクラシー)が強く唱えられた時期だった。

(1) ㉞ 起こった次の1～3のできごとを年代の古い順に並べ、その番号を書きなさい。
 1 薩長同盟が結ばれた。 2 大政奉還が行われた。 3 桜田門外の変が起こった。
 (2) 資料1は、㉟ の変化を表している。資料1中の□にあてはまる国名を書きなさい。また、□の国の割合が減少している理由について、資料2を参考にして、書きなさい。



資料2

年	世界のおもなできごと
1853年	クリミア戦争が始まる
1857年	インド大反乱が始まる
1861年	イタリア王国が成立する アメリカ南北戦争が始まる
1871年	ドイツが統一される

(3) ㉡ が1868年3月に定めた、新しい政治の方針を何というか、書きなさい。
 (4) ㉢ について述べた文として適切なものを、次の1～4の中から一つ選び、その番号を書きなさい。

- 1 政府は、土地の所有者と価格(地価)を定め、地券を発行した。
- 2 課税の基準を、その土地の収穫高にした。
- 3 地租は地価の2.5%としたが、のちに3%に引き上げた。
- 4 土地の所有者は、地租を米で納めた。

(5) ㉤ を広めるうえで大きな役割を果たした民主主義を主張した人物名を書きなさい。

(6) 資料3は、(㉦)のできごとの様子を表している。(㉦)にあてはまるできごととして適切なものを、次の1～4の中から一つ選び、その番号を書きなさい。

- 1 第一次護憲運動
- 2 米騒動
- 3 小作争議
- 4 第1回メーデー

