

3 下の表は、あるクラスが歴史の学習で調べたことを、班ごとにまとめたものである。次の(1)～(6)に答えなさい。(15点)

班	テーマ	調べた内容
A	大和政権の誕生	奈良盆地を中心とする地域に、王を中心に、近畿地方の有力な豪族で構成する大和政権が生まれ、王や豪族の墓として大きな(㉞)が造られた。
B	国風文化	貴族たちは、唐風の文化をふまえながらも、日本の風土や生活、日本人の感情に合った国風文化を生み出し、㉟撰閣政治のころに最も栄えた。
C	日明貿易	㊱足利義満は、正式な貿易船に、明からあたえられた勘合という証明書を持たせ、㊲朝貢の形の貿易を行った。
D	江戸幕府による大名の統制	江戸幕府は、㊳武家諸法度という法律を定め、大名が許可なく城を修理したり、大名どうしが無断で縁組をしたりすることを禁止した。

- (1) (㉞) にあてはまる語を書きなさい。
- (2) ㉟ について、次のア、イに答えなさい。
- ア ㉟ の仏教について述べた文として適切なものを、次の1～4の中から一つ選び、その番号を書きなさい。
- 百濟から朝廷に仏像や経典がおくられ、飛鳥地方を中心に、最初の仏教文化が栄えた。
 - 仏教の力にたよって、国家を守ろうと考え、国ごとに国分寺と国分尼寺が建てられた。
 - 念仏を唱えて阿弥陀如来にすがり、極楽浄土へ生まれ変わることを願う、浄土信仰がおこった。
 - 座禅によって自分の力でさとりを開こうとする禅宗が伝わり、臨済宗や曹洞宗が開かれた。
- イ 右の資料は、㊱ によまれた歌である。この歌をよんだ人物名を書きなさい。

資料
この世をば
わが世とぞ思う
望月の欠けたることも
無しと思えば

(3) ㊱ が建てた建築物として適切なものを、次の1～4の中から一つ選び、その番号を書きなさい。



(4) ㊲ について述べた下の文中の [] に入る適切な内容を書きなさい。

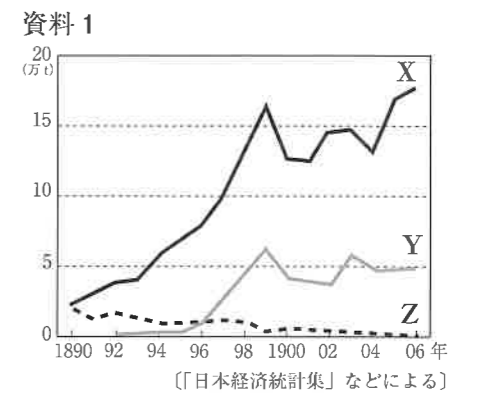
明は東アジアやインド洋諸国に対して、貢ぎ物を差し出させるかわりに [] を認めたり、絹や銅銭などの返礼品をあたえたりする伝統的な朝貢体制を広く求めた。

- (5) ㊳ が行った次の1～3のできごとを年代の古い順に並べ、その番号を書きなさい。
- 異国船打払令を出した。
 - 生類憐みの令を出した。
 - 公事方御定書を定めた。
- (6) 徳川家光が、㊴ で定めた、大名が1年おきに領地と江戸とを往復する制度を何というか、書きなさい。

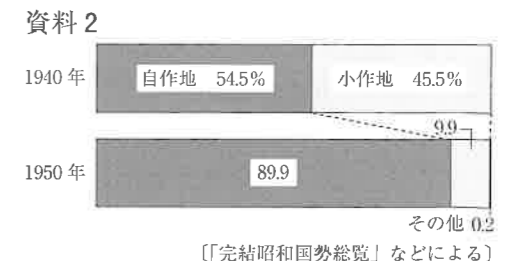
4 下のA～Cは、ある生徒が近代から現代までの日本の経済について、まとめたカードである。次の(1)～(6)に答えなさい。(15点)

<p>A 日本の産業革命 ㊱紡績業では大工場が次々と造られ、主にアジア諸国に輸出した。製糸業は、主にアメリカ向けの輸出によって発展し、㊲日露戦争後には世界最大の輸出国となった。</p>	<p>B ㊳世界恐慌からの回復 深刻な打撃を受けた日本の経済は諸外国と比べて、いち早く不況から立ち直った。㊴重化学工業が発展し、急速に成長した新しい財閥が、朝鮮や満州に進出した。</p>	<p>C ㊵ 経済面では、財閥が解体されたり、労働者の団結権を認める労働組合法、労働条件の最低基準を定める労働基準法が制定されたりした。農村では、㊶農地改革が行われた。</p>
--	---	--

- (1) ㊱ について、資料1は綿糸の生産と貿易の変化を表したものである。資料1中のX～Zを表している語の組み合わせとして適切なものを、次の1～4の中から一つ選び、その番号を書きなさい。
- X—国内生産量 Y—輸入量 Z—輸出品
 - X—輸出品 Y—輸入量 Z—国内生産量
 - X—国内生産量 Y—輸出品 Z—輸入量
 - X—輸出品 Y—国内生産量 Z—輸入量



- (2) ㊳ について、アメリカの仲介によって、日本とロシアとの間で結ばれた条約名を何というか、書きなさい。
- (3) ㊴ について、次のア、イに答えなさい。
- ア ㊴ への対策として、アメリカが始めた政策の名称を書きなさい。
- イ ㊴ が起こった後のできごととして適切でないものを、次の1～4の中から一つ選び、その番号を書きなさい。
- 陸軍の青年将校たちが二・二六事件を起こした。
 - 原敬が本格的な政党内閣を組織した。
 - 関東軍が柳条湖事件を起こした。
 - 近衛文麿内閣が国家総動員法を制定した。
- (4) ㊵ する基礎となった、日清戦争の賠償金を基に建設された官営工場を何というか、書きなさい。
- (5) [] に入る内容として適切なものを、次の1～4の中から一つ選び、その番号を書きなさい。
- 地租改正
 - 高まる自由民権運動
 - 殖産興業政策
 - 戦後の民主化
- (6) 資料2は㊶ による自作地と小作地の割合の変化を表している。㊶ の内容を、資料2を参考にして、次の2語を用いて書きなさい。



5 下は、ある生徒が国会の1年の動き(2017年)についてまとめたものである。次の(1)～(6)に答えなさい。(14点)

2017年	主な動き	
1月	1月20日	召集,平成29年度予算提出
2月	2月27日	㉞衆議院で予算可決
3月	3月27日	参議院で予算可決 →平成29年度予算成立
4月	X	
5月		会期中に76件の㉟法律案が成立
6月	6月18日	閉会
7月		
8月		
9月	Y	
9月	9月28日	召集,衆議院解散,閉会
10月	10月22日	㊱総選挙実施
11月	Z	召集,(㊲)の指名
12月	12月9日	閉会

- (1) 国会の議決のうち、いくつかの重要な点で、㉞の議決を優先させることを何というか、書きなさい。
- (2) X～Zにあてはまる国会の種類を組み合わせとして適切なものを、次の1～4の中から一つ選び、その番号を書きなさい。
- 1 X—常会 Y—臨時会 Z—特別会 2 X—臨時会 Y—特別会 Z—常会
3 X—特別会 Y—常会 Z—臨時会 4 X—常会 Y—特別会 Z—臨時会
- (3) ㉟について述べた文として適切でないものを、次の1～4の中から一つ選び、その番号を書きなさい。
- 1 国会議員と内閣だけが提出することができる。
2 委員会では、関係者などから意見を聴取する公聴会を開くことができる。
3 特別の場合を除き、両議院で可決したときに法律となる。
4 国会以外の機関でも法律を制定することができる。

資料
比例代表制：定数4名(ドント式による)

政党名	得票数	名簿の順位		
		1位	2位	3位
けやき党	330	aさん	bさん	cさん
かえで党	270	dさん	eさん	fさん
いちよう党	180	gさん	hさん	iさん

(4) ㊱について、右の資料は、ある模擬選挙の投票結果を表している。当選者4名を、資料中のa～iの中から選び、その記号を書きなさい。

(5) (㊲)にあてはまる語を書きなさい。

(6) 国会の地位について述べた、下の文中の□に入る適切な内容を、主権者という語を用いて書きなさい。

国会は、□によって構成されるため、国権の最高機関として、国の政治の中心的な地位をしめる。

2 下の略地図や資料を見て、次の(1)～(4)に答えなさい。(16点)

(1) 略地図について、次のア～ウに答えなさい。

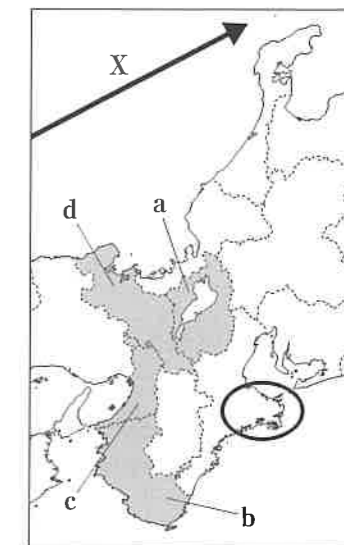
ア 略地図中の○で見られる海岸線が複雑に入り組んだ地形を何というか、書きなさい。

イ 略地図中のXは、冬の日本海側の気候に影響をあたえる海流を表している。この海流名を書きなさい。

ウ 近畿地方の南部は、古くから林業が盛んであった。この地方で生産されている木材を、次の1～4の中から一つ選び、その番号を書きなさい。

- 1 屋久すぎ 2 吉野すぎ
3 越後すぎ 4 秋田すぎ

略地図



(2) 資料1は、ある府県で見られる自然環境の特色と観光地の一つである天橋立を表している。資料1が示している府県として適切なものを、略地図中のa～dの中から一つ選び、その記号を書きなさい。

資料1

【自然環境の特色】北部にはなだらかな山地が広がり、北西の季節風の影響で、冬には雪や雨が多く降る。
【観光地】天橋立



(3) 資料2は、職人が手作業で刃物を造る様子を表している。資料2について述べた下の文章中の(A), (B)にあてはまる語をそれぞれ書きなさい。

近畿地方では、古くから鉄製道具が生産されてきた。鉄を加工する技術が鍛冶職人によって受け継がれ、戦国時代には鉄砲の生産地となった地域もある。そのような歴史的背景をもつ大阪府(A)市で造られている高品質の刃物は、現在、京都府の西陣織や京友禅などとともに国から伝統的(B)に指定されている。

資料2



(4) 資料3は、京都府、兵庫県、大阪府、奈良県の工業生産額、米生産額、畜産生産額、国宝・重要文化財の指定件数(建造物)を表している。兵庫県を表しているものを、資料3中の1～4の中から一つ選び、その番号を書きなさい。

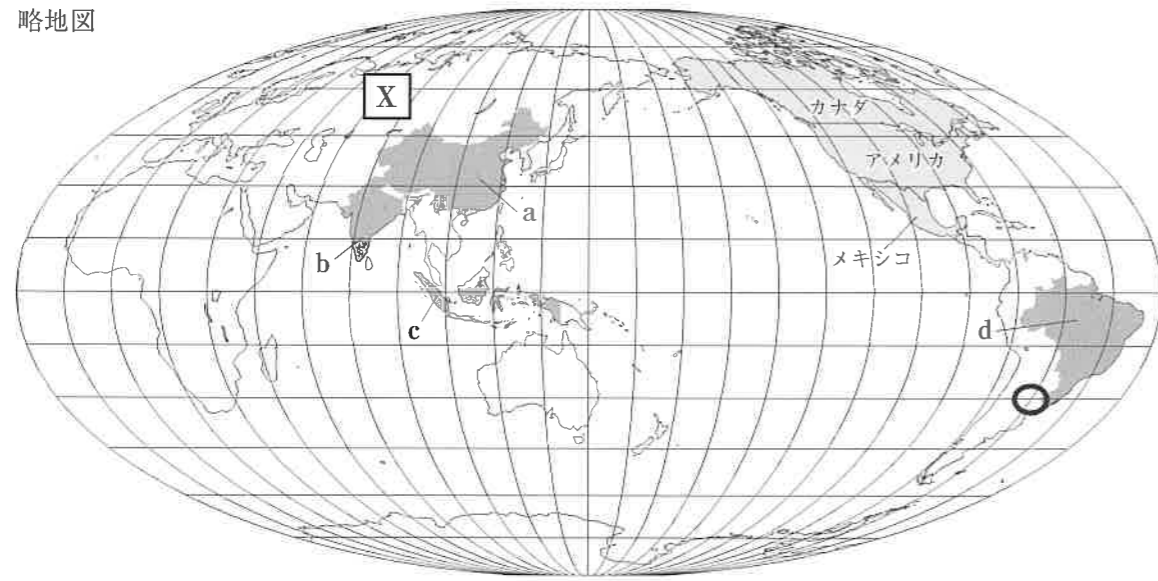
資料3

	工業生産額(億円)	米生産額(億円)	畜産生産額(億円)	国宝・重要文化財の指定件数(建造物)
	2017年	2017年	2017年	2020年
1	157988	476	627	109
2	58219	177	143	300
3	21181	108	61	264
4	173490	77	23	101

〔「2020 データでみる県勢」などによる〕

1 下の略地図や資料を見て、次の(1)～(3)に答えなさい。(14点)

略地図



(1) 次のア、イに答えなさい。

ア 略地図中の X の大陸名を書きなさい。

イ 略地図中の ○ の位置を表している緯度と経度の組み合わせとして適切なものを、次の1～4の中から一つ選び、その番号を書きなさい。

- 1 北緯と西経 2 北緯と東経 3 南緯と西経 4 南緯と東経

(2) 資料1は、略地図中の a～d の国の輸出額上位3品目を表している。a の国について表しているものを資料1中の1～4の中から一つ選び、その番号を書きなさい。

資料1

	第1位	第2位	第3位
1	大豆	機械類	肉類
2	石油製品	機械類	ダイヤモンド
3	石炭	パーム油	機械類
4	機械類	衣類	繊維品

〔「世界国勢図会 2017/18」による〕

(3) 略地図中のカナダ、アメリカ、メキシコについて、次のア～ウに答えなさい。

ア この3か国の太平洋側の一部をふくむ造山帯を何というか、書きなさい。


イ アメリカで暮らす移民について述べた下の文中の (Y) にあてはまる語を書きなさい。

メキシコ、中央アメリカ、西インド諸島の国々などからやってきた (Y) 語を話す移民はヒスパニックと呼ばれ、農場、建設工事現場など、重労働の職場で低い賃金で働く人が少なくない。

ウ 資料2は、カナダ、アメリカ、メキシコの貿易相手国を表している。この3か国の関係について、資料2を参考にして、「カナダ、アメリカ、メキシコの3か国は、」に続けて、次の2語を用いて書きなさい。

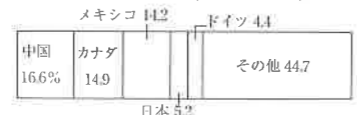
資料2

カナダ 輸出入合計 8530 億ドル




貿易協定 経済

アメリカ 輸出入合計 3兆9530 億ドル



メキシコ 輸出入合計 8298 億ドル



〔「国際連合貿易統計年鑑 2017 年版」による〕

6 下の文章は、ある生徒が企業についてまとめたものの一部である。次の(1)～(5)に答えなさい。(14点)

1. 私企業について

- ・生産活動の目的は、売り上げから原材料などの費用(コスト)を引いた ㊦ を得ることである。
- ・現代では、㊦ を追求するだけでなく、法令を守り情報を公開することや ㉠ 消費者の安全や雇用の確保など、多様な役割と責任をになっている。
- ・個人商店などの個人企業と ㉡ 株式会社などの法人企業がある。
- ・好景気と不景気が交互にくり返される ㉢ 景気変動は、生産活動に大きな影響をあたえる。
- ・生産された商品は、㉣ 卸売業者や小売業者を経て消費者に届けられる。

(1) ㊦ に共通してあてはまる語を書きなさい。

(2) ㉠ について、消費者行政を一元化するため、2009年に設置された省庁を何というか、書きなさい。

(3) ㉡ について、次のア、イに答えなさい。

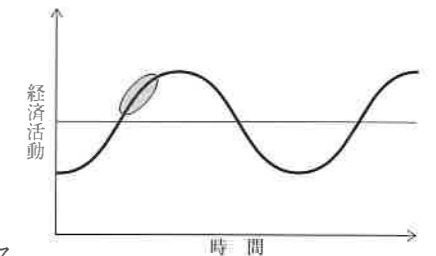
ア 株式会社の仕組みについて述べた文として適切でないものを、次の1～4の中から一つ選び、その番号を書きなさい。

- 1 株主は、株式会社が倒産しても、出資した金額以上の負担は負わない。
- 2 株主総会で経営者を交代させることはできない。
- 3 株式を発行することで、人々から広く資金を集めることができる。
- 4 株主総会は、経営方針や配当の決定などを行う。

イ 東京、名古屋、福岡などに設けられ、株式や債券の売買が行われる特定の施設を何というか、書きなさい。

(4) 資料1は、㉢ を表している。資料1中の ㉣ の時期における、経済の一般的な傾向について述べた文として適切なものを、次の1～4の中から一つ選び、その番号を書きなさい。

資料1

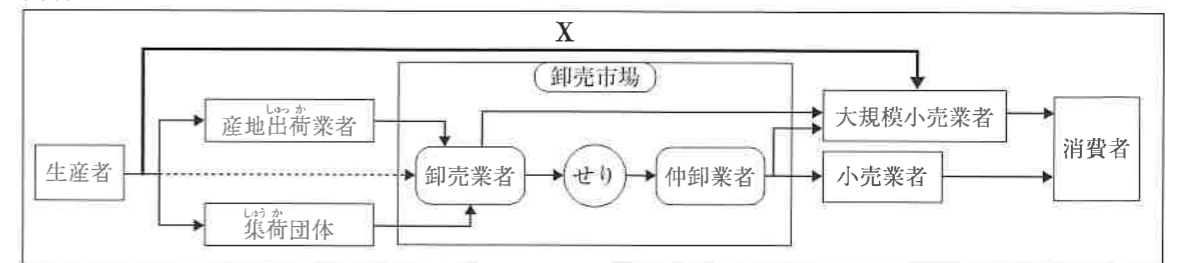


- 1 商品が売れず、企業は生産を減らす。
- 2 企業の雇員が減少し、失業者が増加する。
- 3 需要量が供給量を上回ると、インフレーションが発生する。
- 4 供給量が減り、需要量との均衡が取れてくると、企業は再び生産を増やす。

(5) ㉣ について、資料2は、野菜が生産者から消費者に届くまでの流通経路を表している。Xの経路が見られるようになってきた理由を、次の2語を用いて書きなさい。

大規模小売業者 生産者

資料2



7 下の表は、ある生徒が戦後の主なノーベル平和賞受賞者・受賞団体についてまとめたものである。次の(1)～(5)に答えなさい。(12点)

受賞年	主な受賞者・受賞団体	出身国
1974年	㉞佐藤栄作	日本
1991年	アウン・サン・スー・チー	㉟ミャンマー
1993年	ネルソン・マンデラ	(㉞)
2001年	㉟国際連合	—
2014年	㉞マララ・ユスフザイ	パキスタン

- (1) ㉞について述べた文として適切なものを、次の1～4の中から一つ選び、その番号を書きなさい。
- 1 アメリカ政府と交渉を進め、沖縄の日本への復帰を実現させた。
 - 2 日ソ共同宣言を調印し、ソ連との国交を回復させた。
 - 3 アメリカなどとサンフランシスコ平和条約を結んだ。
 - 4 日中共同声明によって中国との国交を正常化させた。
- (2) ㉟が紛争後の平和の実現のために行う、停戦や選挙を監視するなどの活動を何と云うか、その略称をアルファベット3字で書きなさい。
- (3) 資料1は、㉞が国際連合本部で述べたスピーチを要約したもの的一部である。資料1中の(X)にあてはまる語を書きなさい。

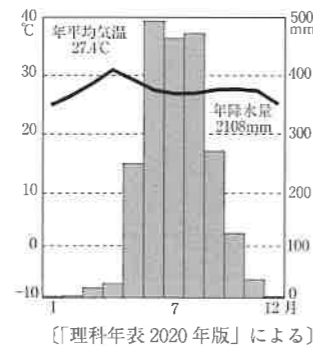
資料1

私は、自分たちの権利のためにたたかっている声なき人々のために、声を上げます。その権利とは、平和に生活する権利、尊厳を持ってあつかわれる権利、均等な機会を得る権利、そして(X)を受ける権利です。(略)一人の子ども、一人の教師、1冊の本、そして1本のペン、それで世界を変えられます。

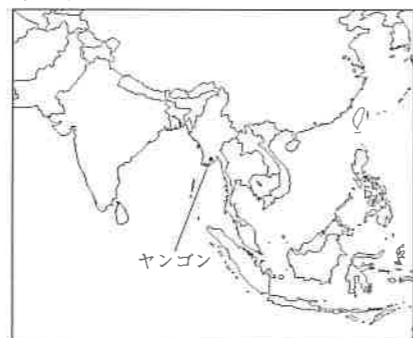
- (4) 資料2は、㉟の都市の一つであるヤンゴンの雨温図を表している。ヤンゴンが属する気候帯として適切なものを略地図を参考にして、次の1～4の中から一つ選び、その番号を書きなさい。

- 1 冷帯
- 2 温帯
- 3 乾燥帯
- 4 熱帯

資料2



略地図



- (5) (㉞) にあてはまる国名を、下の文章を参考にして書きなさい。

アフリカ州にあるこの国では、長い間アパルトヘイトを採り、ヨーロッパ系以外の人々を差別してきた。しかし、長期にわたる反対運動が実り、アパルトヘイト体制はくずされ、1994年、マンデラはアフリカ系として初めてこの国の大統領になった。

社 会

注 意

- 1 問題用紙は「始めなさい」という合図があるまで開いてはいけません。
- 2 問題用紙は表紙を入れて8ページあり、これとは別に解答用紙が1枚あります。
- 3 受検番号は、検査開始後、解答用紙の決められた欄に記入しなさい。
- 4 机の上に置けるものは、受検票・鉛筆(シャープペンシルも可)・消しゴム・鉛筆削りです。
- 5 筆記用具の貸し借りはいけません。
- 6 問題を読むとき、声を出してはいけません。
- 7 印刷がはっきりしなくて読めないときや、筆記用具を落としたときなどは、だまって手をあげなさい。
- 8 「やめなさい」という合図ですぐに書くのをやめ、筆記用具を置きなさい。

答えの書き方

- 1 答えは、問題の指示に従って、すべて解答用紙に記入しなさい。
- 2 答えはていねいに書きなさい。答えを書き直すときは、きれいに消してから書きなさい。