




3 下のⅠ～Ⅲは、ある生徒が京都府の世界文化遺産についてまとめたものである。次の(1)～(3)に答えなさい。(15点)

| | | |
|--|---|--|
| <p>Ⅰ 平等院鳳凰堂</p>  <p>④藤原頼通が造らせた阿彌陀堂です。なだらかな屋根は、鳳凰がつばさを広げたような形をしていることから、鳳凰堂と呼ばれるようになったといわれています。</p> | <p>Ⅱ 龍安寺の石庭</p>  <p>室町時代に細川勝元が創建した(㉠)の寺院です。水を使わずに山水の風景を表現する庭園を枯山水といい、河原者と呼ばれる人々によって造られました。</p> | <p>Ⅲ 二条城</p>  <p>⑤江戸幕府の初代将軍徳川家康が、天皇の住む京都御所の守護と将軍上洛の際の宿泊所とするために築城したものです。3代将軍家光の時代に大改修が行われました。</p> |
|--|---|--|

(1) Ⅰについて、次のア、イに答えなさい。

ア 藤原道長と下線部④のところに、幼い天皇のかわりに政治を行う職や成長した天皇を補佐する職が中心になった政治が最も安定した。このような政治を何というか、書きなさい。

イ 平安時代の社会や文化について述べた文として適切でないものを、次の1～4の中から一つ選び、その番号を書きなさい。

- 1 北関東では、平将門が周辺の武士団を率いて大きな反乱を起こした。
- 2 死後に極楽浄土へと生まれ変わることを願う浄土信仰が地方にも広まった。
- 3 木綿が商品作物として栽培されるようになり、庶民は木綿の衣服を着るようになった。
- 4 仮名文字による文学作品が盛んに作られるようになった。

(2) Ⅱについて、次のア、イに答えなさい。

ア (㉠) にあてはまる宗派を、次の1～4の中から一つ選び、その番号を書きなさい。また、日本でその宗派を開いたのは誰か、人物名を書きなさい。資料1

- | | |
|-------|-------|
| 1 浄土宗 | 2 日蓮宗 |
| 3 臨済宗 | 4 時宗 |

イ 資料1は、龍安寺が創建される前後の出来事を表したものである。□に共通してあてはまる人物名を書きなさい。

| 西暦 | 出来事 |
|-------|---------------------------|
| 1449年 | □が将軍になる |
| 1450年 | 龍安寺が創建される |
| 1467年 | □のあとつぎ問題をめぐり、 応仁の乱が起こる |

(3) Ⅲについて、次のア、イに答えなさい。

ア 下線部⑤が成立してから滅びるまでの間に世界で起こった出来事について述べた文として適切でないものを、次の1～4の中から一つ選び、その番号を書きなさい。

- 1 イギリスで名誉革命が起こった。
- 2 ドイツで宗教改革が始まった。
- 3 フランスで人権宣言が発表された。
- 4 アメリカで南北戦争が起こった。

イ 資料2は、二条城で第15代将軍の徳川慶喜が、家臣にある決意を伝えている場面を表している。その決意とはどのようなことか、政権という語を用いて書きなさい。

資料2



4 下の年表は、ある生徒が日本の外交の歴史についてまとめたものである。次の(1)～(5)に答えなさい。(15点)

(1) 下線部⑥の結果、参議を辞職して政府を去り、鹿児島に帰郷したのは誰か、人物名を書きなさい。

(2) 下の1～3は、㉡の時期における東アジアの国際関係を表した資料である。1～3を年代の古い順に並べ、その番号を書きなさい。

| 西暦 | 日本の外交に関する主な出来事 |
|-------|----------------------------|
| 1873年 | ⑥朝鮮をめぐる政府内の対立がおこる |
| 1906年 | 半官半民の南満州鉄道株式会社が設立される |
| 1914年 | 第一次世界大戦に参戦する |
| 1920年 | ⑤国際連盟の常任理事国になる |
| 1936年 | (㉡) 海軍軍縮条約・ロンドン海軍軍縮条約が失効する |
| 1941年 | 太平洋戦争が始まる |
| 1951年 | ⑧サンフランシスコ平和条約に調印する |

1



清での利権を確保したい国が、おびえる日本の背中を押している。

2

第1条 朝鮮国は自主の国であり、日本国と平等の権利を持っている。…

第10条 日本国の人民が、朝鮮国の開港地に在留中に罪を犯し、朝鮮国の人民に關係する事件は、日本国の領事が裁判を行う。

日本は武力衝突を口実に、翌年朝鮮と条約を結び、力で朝鮮を開国させた。

3



魚としてえがかれている朝鮮が、日本・清・ロシアの3国にねらわれている。

(3) 下線部⑤について述べた下の文中の□に入る適切な内容を、反対という語を用いて書きなさい。

国際連盟は、世界平和と国際協調を目的として発足したが、提唱国である□ことや、紛争を解決するための手段も限られていたことなどにより、世界への影響力は大きくなかった。

(4) (㉡) にあてはまる都市名を書きなさい。

(5) 下線部⑧について、次のア、イに答えなさい。

ア 下線部⑧を結ぶ講和会議には出席したが、下線部⑥には調印しなかった国を、次の1～4の中から一つ選び、その番号を書きなさい。

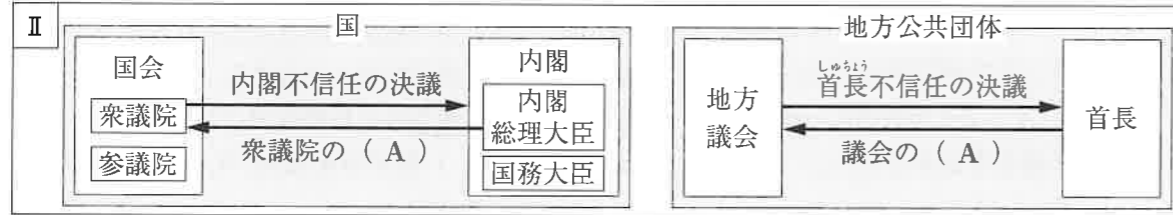
- | | | | |
|--------|--------|--------|------|
| 1 イギリス | 2 フランス | 3 オランダ | 4 ソ連 |
|--------|--------|--------|------|

イ 1952年、下線部⑥が発効し、日本は独立を回復した。その後の日本の外交について述べた文として適切でないものを、次の1～4の中から一つ選び、その番号を書きなさい。

- 1 日韓基本条約を結び、韓国政府を朝鮮半島の唯一の政府として承認した。
- 2 日中共同声明によって、中華人民共和国との国交を正常化した。
- 3 日米安全保障条約を改定したことで、日本の国際連合への加盟が実現した。
- 4 沖縄を日本に復帰させるための交渉の中で、非核三原則が国の方針となった。

5 下のⅠ～Ⅲは、ある生徒が公民の授業で学習した内容についてまとめたものである。次の(1)～(3)に答えなさい。(14点)

Ⅰ ・国家は、国民、**①領土**、**②主権**の三つの要素がそろって成り立つ。国家の主権とは、ほかの国に干渉されたり支配されたりせずに、国内の政治と他国との外交をどのように行うか決める権利である。
 ・1945年に国際連合憲章が採択され、**③国際連合(国連)**が創設された。2021年現在、193か国が加盟している。



Ⅲ

私の政策提言

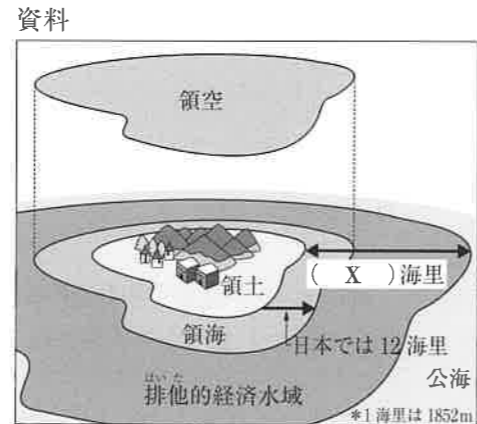
- 年齢、障がいの有無、国籍などのさまざまなちがいを認め、考え方や価値観の異なる人々が、たがいを認め合い、ともに生活していくことができる社会を目指す。
- 言葉や文化のちがいに配慮した教育や社会保障の制度をつくる。
- 学び直しや新しいスキルを習得するための制度をつくる。
- 障がいのある人の雇用を支援する。
- 公共の交通機関や建物でバリアフリー化を進め、多言語の案内板を設置する。

政策を検討するために先生が示した座標軸

| | | |
|-----|-------|-----|
| | 大きな政府 | |
| 画一性 | 4 | 1 |
| | ↑ | ↓ |
| | 3 | 2 |
| | ↓ | ↑ |
| | 小さな政府 | |
| | | 多様性 |

(1) Ⅰについて、次のア～ウに答えなさい。

- ア 右の資料は、下線部**①**の区分について模式的に表したものである。(X)にあてはまる数字を書きなさい。
- イ 右の資料で、下線部**②**が及ぶ範囲として適切なものを、次の1～4の中から一つ選び、その番号を書きなさい。
- 領土、領海
 - 領土、領海、領空
 - 領土、領海、領空、排他的経済水域
 - 領土、領海、領空、排他的経済水域、公海



ウ 下線部**③**の機関について述べた下の文章中の に共通してあてはまる語を書きなさい。

はすべての加盟国で構成される。毎年9月から開かれ、世界のさまざまな問題を話し合い、決定する。 の決定にはすべての加盟国が加わり、主権平等の原則によって平等に1票を持つ。

(2) Ⅱについて、次のア～ウに答えなさい。

- ア (A) に共通してあてはまる語を書きなさい。
- イ 内閣総理大臣の選出方法を、**指名**という語を用いて書きなさい。
- ウ 地方公共団体の首長の選出方法を、**住民**という語を用いて書きなさい。

(3) Ⅲは、ある生徒が考えた政策提言と政策を検討するために先生が示した座標軸である。この政策提言は、座標軸の1～4のどこにあてはまるか、最も適切なものを一つ選び、その番号を書きなさい。

2 下の略地図や資料を見て、次の(1)～(5)に答えなさい。(15点)

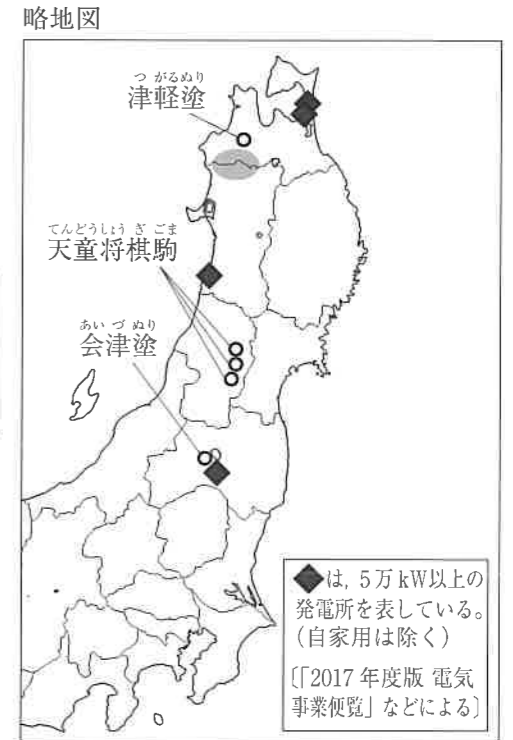
(1) 略地図中の は、1993年に世界自然遺産に登録された、ブナの原生林が分布する山地である。この山地を何とよぶか、書きなさい。

(2) 東日本の太平洋の沖合いの海流について述べた下の文中の にあてはまる語を書きなさい。

赤道付近から北上する暖流の黒潮と、千島列島から南下する寒流の親潮とがぶつかる があり、多くの魚が集まる漁場になっている。

(3) 略地図中の は、再生可能エネルギーを使った主な発電所を表している。この発電所の発電方法として適切なものを、次の1～4の中から一つ選び、その番号を書きなさい。

1 バイオマス 2 地熱 3 風力 4 水力



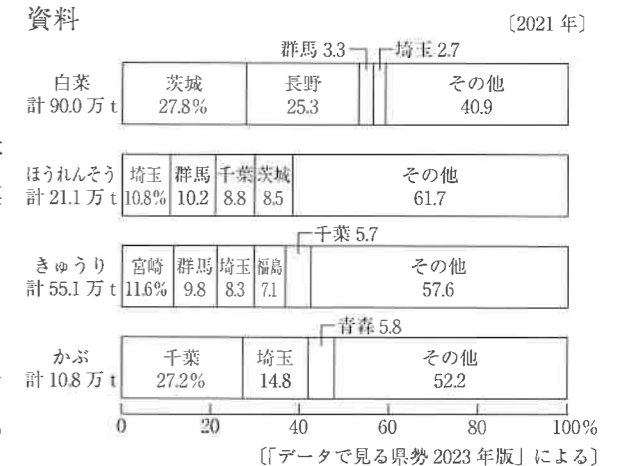
(4) 略地図中の○は、伝統的工芸品の生産地を表している。これらの伝統的工芸品が生産されてきた背景について述べた下の文中の に入る適切な内容を、自然環境と関連付けて、次の2語を用いて書きなさい。

冬 農作業

東北地方では、 として、地域でとれる材料や資源を利用した工芸品が作られてきた。

(5) 下の資料は、白菜、ほうれんそう、きゅうり、かぶの生産量の県別割合を表している。次のア、イに答えなさい。

ア 資料から読み取ることができる内容として適切なものを、次の1～4の中から一つ選び、その番号を書きなさい。

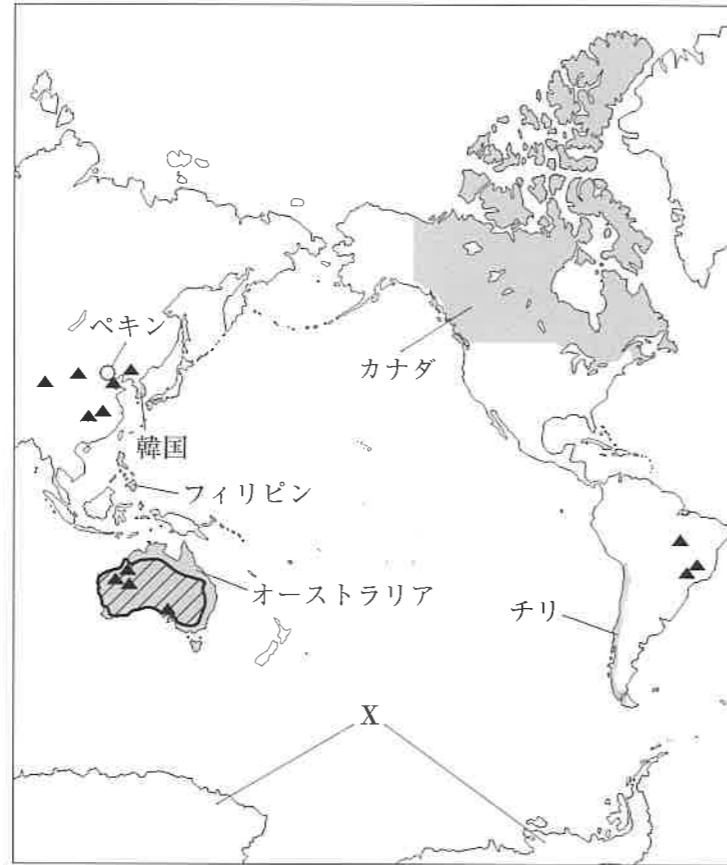


- 埼玉県は、白菜とかぶそれぞれの全体の生産量に占める割合を比べると、白菜の割合の方が高い。
- 群馬県は、白菜の生産量よりほうれんそうの生産量が少ない。
- きゅうりの生産量上位5県のうち、関東地方の生産量を合わせた割合は、全体の生産量の25%をこえる。
- 青森県のかぶの生産量は約630tである。

イ 関東地方で盛んに行われている近郊農業には、農産物の輸送の面で、どのような利点があるか、「大消費地に近い条件を生かし、」に続けて書きなさい。

1 下の略地図を見て、次の(1)～(4)に答えなさい。(14点)

略地図



(1) 略地図中のXの大陸名を書きなさい。

(2) 略地図中の▲は、ある鉱産資源の生産量上位3か国(2017年)における、主な採掘場所を表している。この鉱産資源として適切なものを、次の1～4の中から一つ選び、その番号を書きなさい。

- 1 石炭
- 2 天然ガス
- 3 すず
- 4 鉄鉱石

(3) 略地図中のカナダ、チリ、オーストラリア、フィリピン、韓国の5か国について、次のア～ウに答えなさい。

ア これら5か国は、1989年にオーストラリアの主導で結成された、経済協力の枠組みに参加している。この経済協力の枠組みの略称をアルファベット4字で書きなさい。

イ 略地図中の(斜線)の地域の気候帯は何か、書きなさい。

ウ 右の資料は、これら5か国の人口密度、国内総生産、日本への主な輸出品を表している。資料中の2, 4にあてはまる国名をそれぞれ書きなさい。

資料

| | 人口密度 (人/km ²) 2019年 | 国内総生産 (百万ドル) 2019年 | 日本への主な輸出品 2020年 |
|---|---------------------------------------|--------------------------|--------------------|
| 1 | 512 | 1646539 | 機械類, 石油製品, 鉄鋼 |
| 2 | 358 | 359354 | 機械類, 果実, 木製品 |
| 3 | 4 | 1741497 | 肉類, 医薬品, 石炭 |
| 4 | 25 | 282318 | 銅鉱, 魚介類, 木製品 |
| 5 | 3 | 1380208 | 液化天然ガス, 石炭, 鉄鉱石 |

〔「世界人口年鑑」2019年版などによる〕

(4) 日本の成田空港を3月20日午後5時に出発した航空機が最短距離を飛んで、ペキンに向かった。ペキンの空港に到着したのは、現地時間で3月20日午後8時だった。出発から到着までにかかった時間は何時間か、書きなさい。なお、日本の標準時子午線は東経135度、ペキンの標準時子午線は東経120度とする。

6 下の[X]～[Z]は、ある生徒が生活と経済についてまとめたものである。次の(1)～(4)に答えなさい。(14点)

X ⑥私たちは毎日、実は多くの「契約」を結びながら生活している。コンビニでの買い物も、バスに乗るときも、好きな音楽のダウンロードも、そこにはだれかとの契約が存在している。

Y 国や地方公共団体といった政府の経済的な活動を①財政という。政府の収入は税金(租税)でまかなわれ、②社会保障や公共事業などに支出される。予算は、1年間の政府の収入(歳入)と支出(歳出)の計画である。国会や地方議会は、予算を審議して議決することで、政府の財政を監視している。

Z 社会資本の整備や公共サービスの提供のほかに、税金や社会保障の仕組みを整備して、不当な経済格差をなくし、国民が安定した生活を送れるようにすることも③政府の役割である。

(1) 下線部⑥について、次のア、イに答えなさい。

ア 資料1は、ある生徒がコンビニで買い物をしたときの様子である。契約が成立する段階として適切なものを、資料1中の1～4の中から一つ選び、その番号を書きなさい。

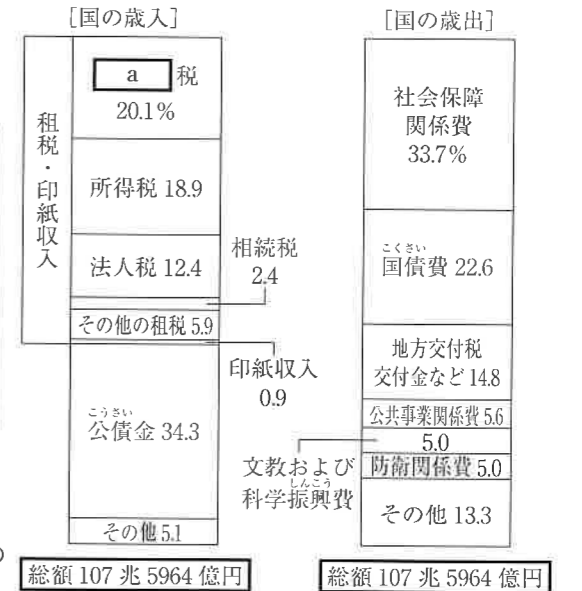
資料1

- 1-生徒:「300円のポップコーンを2つください」
- 2-店員:「はい、かしこまりました」
- 3-生徒:(財布から1000円を出して支払う)
- 4-店員:「400円のおつりとレシートです」

イ 訪問販売や電話勧誘などで商品を購入した場合に、購入後8日以内であれば消費者側から無条件で契約を解除できる制度を何というか、書きなさい。

(2) 下線部①について、資料2は、国の一般会計予算を表している。資料2について述べた下の文章を読み、次のア、イに答えなさい。

資料2



租税収入で最も割合が大きいのは、20.1%をしめるa税である。この税は、酒税やたばこ税などと同じ間接税に分類される。

政府の政策は、主に税金を使って行われる。税金だけではお金が足りない場合は、公債を発行するが、公債の発行は慎重に行う必要がある。

ア aにあてはまる語を書きなさい。

イ 公債の発行を慎重に行う必要があるのはなぜか、「公債を発行しすぎると、利子の支払いや元金の返済に時間がかかり、」に続けて書きなさい。

(3) 下線部②について、日本の社会保障制度の四つの柱のうち、生活環境の改善や感染症の予防などで、人々の健康や安全な生活を守る役割を果たしているものは何か、書きなさい。

(4) 下線部③について、市場経済における公正さの確保のために行うこととして適切なものを、次の1～4の中から一つ選び、その番号を書きなさい。

- 1 独占や寡占の規制
- 2 成年年齢の引き下げ
- 3 公開市場操作
- 4 紙幣の発行

7 下のカードは、ある生徒が興味を持ったロゴ、ラベル、マークについて調べたものである。次の(1)～(4)に答えなさい。(13点)

| | | |
|---|--|---|
| <p>㉞ 国境なき医師団</p> <p>紛争地域や被災地などで、危機に瀕する人々に、独立・中立・公平な立場で緊急医療援助を行っている。</p> <p>ロゴのモチーフは、走っている人の姿。命の危機に直面している人々のもとに駆け付けるという意味が込められている。</p> | <p>国際フェアトレード認証ラベル</p> <p>このラベルが付いた製品は、社会的、環境的、経済的基準について定めた国際フェアトレード基準を満たしている。</p> <p>フェアトレードは、立場の弱い途上国の生産者や労働者の経済的自立を目指す「貿易の仕組み」である。</p> | <p>エコマーク</p> <p>100%再生紙利用の</p> <p>㉟ トイレtpペーパー、文房具や制服などの認定商品がある。</p> <p>「生産」から「廃棄」にわたるライフサイクル全体を通して、環境への負荷が少なく、㊱ 環境保全に役立つと認められた商品に付けられる。</p> |
|---|--|---|

- (1) 下線部㉞のように、人権、環境、開発などの国際的な課題に取り組む、非政府組織の略称を、アルファベット3字で書きなさい。
- (2) 下線部㉟について、貧しい人々が事業を始めるために、少額のお金を貸し出し、事業によって収入を得る機会をあたえる仕組みとして適切なものを、次の1～4の中から一つ選び、その番号を書きなさい。
- 1 リージョナリズム 2 マニュファクチュア 3 マイクロクレジット 4 インクルージョン
- (3) 資料1は、下線部㊱の売場に人々が殺到し、混乱する様子を表している。資料1が起こった後の日本社会の様子について述べた文として適切でないものを、次の1～4の中から一つ選び、その番号を書きなさい。
- 1 バブル経済が崩壊すると、投機によって異常に高くなっていた株価と地価が急激に下がった。
- 2 阪神・淡路大震災が発生し、深刻な被害をもたらしたが、多くのボランティアが被災地を訪れ、「ボランティア元年」とよばれた。
- 3 世界中の株価が急落する「リーマンショック」が起こり、日本経済も中小企業の倒産や失業率の上昇など、大きな影響を受けた。
- 4 公害問題への対応として、公害対策基本法が制定され、公害対策や自然環境の保護を専門にあつかう省庁として、環境庁が創設された。

資料1



1973年に発生した石油危機により、石油を使った製品が値上がりしたが、流言によって、関係のない商品まで買いしめられた。先進工業国の経済は深刻な不況におちいり、日本でも高度経済成長が終わった。

- (4) 下線部㊱について、次のア、イに答えなさい。
- ア 資料2は、温室効果ガスの排出削減に関する二つの国際的な取り決めを表している。A、Bにあてはまる語をそれぞれ書きなさい。

| A 議定書 | B 協定 |
|-------------------------------|---------------------------|
| 1997年採択 | 2015年採択 |
| 38か国・地域に削減義務 | 196か国・地域が対象 |
| 削減目標値は政府間交渉で決定 | 削減目標値を各国が自ら決定 |
| ・先進国に排出削減の義務あり。目標が達成できなければ罰則。 | ・すべての国に目標の策定、報告、見直しを義務付け。 |
| ・発展途上国の排出削減の義務なし。 | ・すべての国に排出削減の目標達成の義務なし。 |

イ 環境問題の解決について述べた下の文中の□にあてはまる語を漢字4字で書きなさい。

地球環境問題の解決には、社会や経済の発展と環境の保全とを両立させ、現在の世代の幸福だけでなく、将来の世代の幸福も満たせる「□な社会」の考え方が重要である。

社 会

時間 45分

(12時35分～13時20分)

注 意

- 1 問題用紙は「始めなさい」という合図があるまで開いてはいけません。
- 2 問題用紙は表紙を入れて8ページあり、これとは別に解答用紙が1枚あります。
- 3 受検番号は、検査開始後、解答用紙の決められた欄に記入しなさい。
- 4 机の上に置けるものは、受検票・鉛筆(シャープペンシルも可)・消しゴム・鉛筆削りです。
- 5 筆記用具の貸し借りはいけません。
- 6 問題を読むとき、声を出してはいけません。
- 7 印刷がはっきりしなくて読めないときや、筆記用具を落としたときなどは、だまって手をあげなさい。
- 8 「やめなさい」という合図ですぐに書くのをやめ、筆記用具を置きなさい。

答えの書き方

- 1 答えは、問題の指示に従って、すべて解答用紙に記入しなさい。
- 2 答えはていねい書きなさい。答えを書き直すときは、きれいに消してから書きなさい。